






# Region Zentralschweiz

Lehrerinformation



1/5

<b>Arbeitsauftrag</b> 	<p>Die Schüler lesen in Partnerarbeit die zwei Arbeitsblätter. Anschliessend diskutieren die Schüler über den „Prospekt“ und stellen sich gegenseitig Fragen dazu. Als Schlusspunkt dieser Einheit lösen sie das Wortsuchrätsel und korrigieren es. Die Lehrperson erklärt, dass im Wortsuchrätsel Begriffe von links nach rechts, von oben nach unten, diagonal, von rechts nach links und von unten nach oben versteckt sind.</p>
<b>Ziel</b> 	<p>Die Schüler lernen die Zentralschweiz kennen. Sie erfahren, worin sich die Region Zentralschweiz von den anderen Regionen der Schweiz unterscheidet. Sie betrachten einen kleinen Prospekt und bilden sich eine eigene Meinung darüber. Anschliessend repetieren sie spielerisch anhand eines Wortsuchrätsels 15 typische Merkmale der Region.</p>
<b>Material</b> 	<ul style="list-style-type: none"> <li>• Arbeitsblätter</li> <li>• Arbeitsblatt Wortsuchrätsel</li> <li>• Lösung Wortsuchrätsel</li> </ul>
<b>Sozialform</b> 	<p>PA</p>
<b>Zeit</b> 	<p>45'</p>

- Auf der Schweizer Karte können im Plenum die Kantone der Region Zentralschweiz benannt werden.
- Die Geschichte und Entwicklung der Zentralschweiz mit einbeziehen. Wie ist die Zentralschweiz entstanden?

Zusätzliche  
Informationen:

- Zu beziehen im [www.kiknet.ch](http://www.kiknet.ch)-Shop
  - Tell-Kochbuch mit Rezepten und Sagen aus der Innerschweiz
  - CD-Rom „Tell-Kreis“
  - Jugendbuch „Tell Walti“

# Region Zentralschweiz

Arbeitsblätter



2/5

## Destination: Zentralschweiz

Die Zentralschweiz ist die Schweizer Region, die den zentral gelegenen Teil der Alpen und Voralpen umfasst.

Zu ihr gehören die Kantone Uri, Schwyz, Obwalden, Nidwalden, Luzern und Zug. Das städtische Zentrum der Zentralschweiz ist Luzern.



### Begriffliche Abgrenzung

Der Kanton Glarus wird oft fälschlicherweise zur Zentralschweiz gezählt, obwohl er mit ihr weder geografisch noch wirtschaftlich oder politisch grössere Gemeinsamkeiten aufweist.

Nicht deckungsgleich mit der Zentralschweiz, obschon häufig mit ihr verwechselt, ist die Innerschweiz. Ihr Gebiet wird rein nach geografischen Kriterien definiert. Zur Innerschweiz gehören die Kantone Uri, Obwalden und Nidwalden sowie die dem Vierwaldstättersee zugewandten Teile der Kantone Luzern und Schwyz (auch Innerschwyz genannt) – im Wesentlichen also das Gebiet, das z. T. noch heute als Waldstätte bezeichnet wird.



# Region Zentralschweiz

Arbeitsblätter



3/5

## Aufgabe 1:

Lies den folgenden „Prospekt“ über die Zentralschweiz! Gefällt dir die Beschreibung? Warum oder warum nicht? Diskutiert anschliessend zu zweit diese Seite.

## Sommer in der Zentralschweiz



Am Anfang war die Zentralschweiz. Hier begann mit dem Bund der Urner, Schwyzer und Unterwaldner auf dem Rütli die Schweiz.

Und mit dem Bau der Schöllenenbrücke der Transitverkehr über den Gotthard und mit der Eröffnung der ersten Zahnradbahn Europas, 1871 auf die Rigi, die Reiseepoche.

Dieses gebirgige Land rund um den Vierwaldstättersee und die sanfte Seenplatte ist reich an historischen Sehenswürdigkeiten und landschaftlichen Schönheiten. Tell-Denkmal und raue Gipfel, belebte Städte und abgelegene Hochtäler, barocke Klöster und wilde Schluchten. Auf dem See pfeilen Surfer durch die Gischt, ziehen Dampfschiffe majestätisch ihre Spur, am Himmel bunte Gleitschirme wie Schmetterlinge. Auf die Gipfel fahren Bergbahnen, gleiten Gondeln: Urschweiz, Freizeitschweiz, Ferienschweiz.

## Winter in der Zentralschweiz

Fantastische Schneeverhältnisse bis in den Frühling. In den hoch gelegenen Gebieten bis 3020 m ü. M. gibt es Pulverschnee während der ganzen Saison.

Was will man mehr? Skifahren und Snowboarden auf gut präparierten Pisten, Abfahrten im Pulverschnee, Langlaufen und Wanderungen in einer faszinierenden Landschaft, Ausflüge zu den verschiedenen Berggasthäusern und den weltberühmten Klöstern in der Zentralschweiz, abgerundet mit einem Besuch der Kapellbrücke in Luzern – Ferien, die keinen Wunsch offen lassen.



# Region Zentralschweiz

Arbeitsblätter



4/5

## Aufgabe 2:

Suche 14 Orte und Berge der Zentralschweiz!

C V G L E B G N T C B W G N U  
 S Y D U I V D R X B E Z L F A  
 C Q I Z N K I F E G I E M S S  
 F W K E S S K T G B S Z F R I  
 T P P R I A O I Z H L U S Z L  
 X W C N E N S O C N N E Q F L  
 W B O V D T I A T T A F G R I  
 A I C M E N S F E S N U Q N W  
 I F B M L I M R N E N R A S E  
 G L A Z N D Ä P I L A T U S U  
 I K G X L G C C B K C P J L K  
 R U P Y E E A N X K G E C Q O  
 Z S I R H C A H C S R O M L W  
 X T I L L M K A U N J B A W L  
 U D W O H L Z N Y G N H N V Y

EINSIEDELN

ENGELBERG

LUZERN

MORSCHACH

PILATUS

RIGI

SACHSELN

SARNEN

STOOS

UNTERÄGERI

VITZNAU

WEGGIS

WILLISAU

ZUG

# Region Zentralschweiz

AB 1: Lösung



5/5

**Lösung:**

