

Vegetation

Lehrerinformation



1/3

Posten 5

	<p>Du erfährst, welche Pflanzen in der Ostschweiz eine wichtige Rolle spielen, z. B. im Obstbau.</p>
	<ol style="list-style-type: none"> 1. Finde heraus, welche Pflanzen mit den Wortfragmenten gemeint sind. Jeder Strich steht für einen Buchstaben. Schreibe die Lösung auf die Linie. 2. Streiche die Bilder derjenigen Obstsorten, die in der Ostschweiz nicht angepflanzt werden. 3. Korrigiere mit dem Lösungsblatt
	<ul style="list-style-type: none"> • Rätselblatt Vegetation • Lösungsblatt
	<p>Einzelarbeit</p>
	<p>10 Minuten</p>



Vegetation

Arbeitsblatt



2/3

Posten 5

In der Ostschweiz wird viel Obst angebaut. Finde heraus welches!
Schreibe die Lösung auf die Linie und streiche die Bilder derjenigen Obstsorten, die in der Ostschweiz nicht angepflanzt werden.



B _ U _ _ _ _





_ _ D _ _ _ E _



_ _ F _ _



K _ _ _ H _ _

_ _ _ N _ N






_ _ E _ _ _ G _ _



_ _ M _ _ _ E _ _



Vegetation


Lösung



3/3

Lösung Posten 5


B _ U _ _ _ _ _

Baumnüsse

_ _ D _ _ _ _ E _

Erdbeeren

_ _ F _ _

Äpfel

K _ _ _ _ H _ _

Kirschen

_ _ _ N _ N

Birnen

_ _ E _ _ _ _ G _ _

Zwetschgen

_ _ M _ _ _ _ E _

Himbeeren